


Mappe gegen Langeweile



Viel Spaß bei der Bearbeitung der Aufgaben

Wir hoffen, dass du Spaß dabei hast!

Deine OGS der Florianschule ☺

Rechenzeichen finden

Setze das richtige Rechenzeichen ein + -

$6 \square 5 = 1$

$7 \square 5 = 12$

$8 \square 4 = 4$

$10 \square 3 = 7$

$9 \square 6 = 3$

$4 \square 5 = 9$

$11 \square 4 = 15$

$13 \square 6 = 7$

$19 \square 9 = 10$

$8 \square 2 = 10$

$17 \square 3 = 20$

$19 \square 4 = 15$

$8 \square 2 \square 4 = 14$

$12 \square 3 \square 4 = 13$

$7 \square 3 \square 3 = 7$

$10 \square 6 \square 5 = 11$

$9 \square 7 \square 8 = 10$

$15 \square 5 \square 6 = 14$

$18 \square 3 \square 6 = 9$

$20 \square 4 \square 20 = 4$

$11 \square 9 \square 8 = 12$

$19 \square 18 \square 1 = 2$

$17 \square 3 \square 2 = 16$

$22 \square 12 \square 2 = 12$

Setze das richtige Rechenzeichen ein + - •

$20 \square 12 = 32$

$27 \square 15 = 12$

$4 \square 3 = 12$

$3 \square 2 = 6$

$8 \square 2 = 16$

$16 \square 8 = 8$

$9 \square 2 = 11$

$5 \square 3 = 15$

$6 \square 8 = 14$

$6 \square 2 = 12$

$12 \square 4 = 8$

$12 \square 10 = 22$

$12 \square 2 \square 4 = 20$

$2 \square 3 \square 4 = 10$

$8 \square 2 \square 6 = 10$

$4 \square 4 \square 6 = 14$

$7 \square 3 \square 5 = 16$

$8 \square 4 \square 6 = 6$

$3 \square 3 \square 3 = 12$

$2 \square 2 \square 2 = 8$

$10 \square 2 \square 5 = 15$

$5 \square 4 \square 9 = 10$

$6 \square 4 \square 4 = 20$

$9 \square 2 \square 12 = 30$

$2 \square 10 \square 2 = 40$

$3 \square 4 \square 8 = 20$

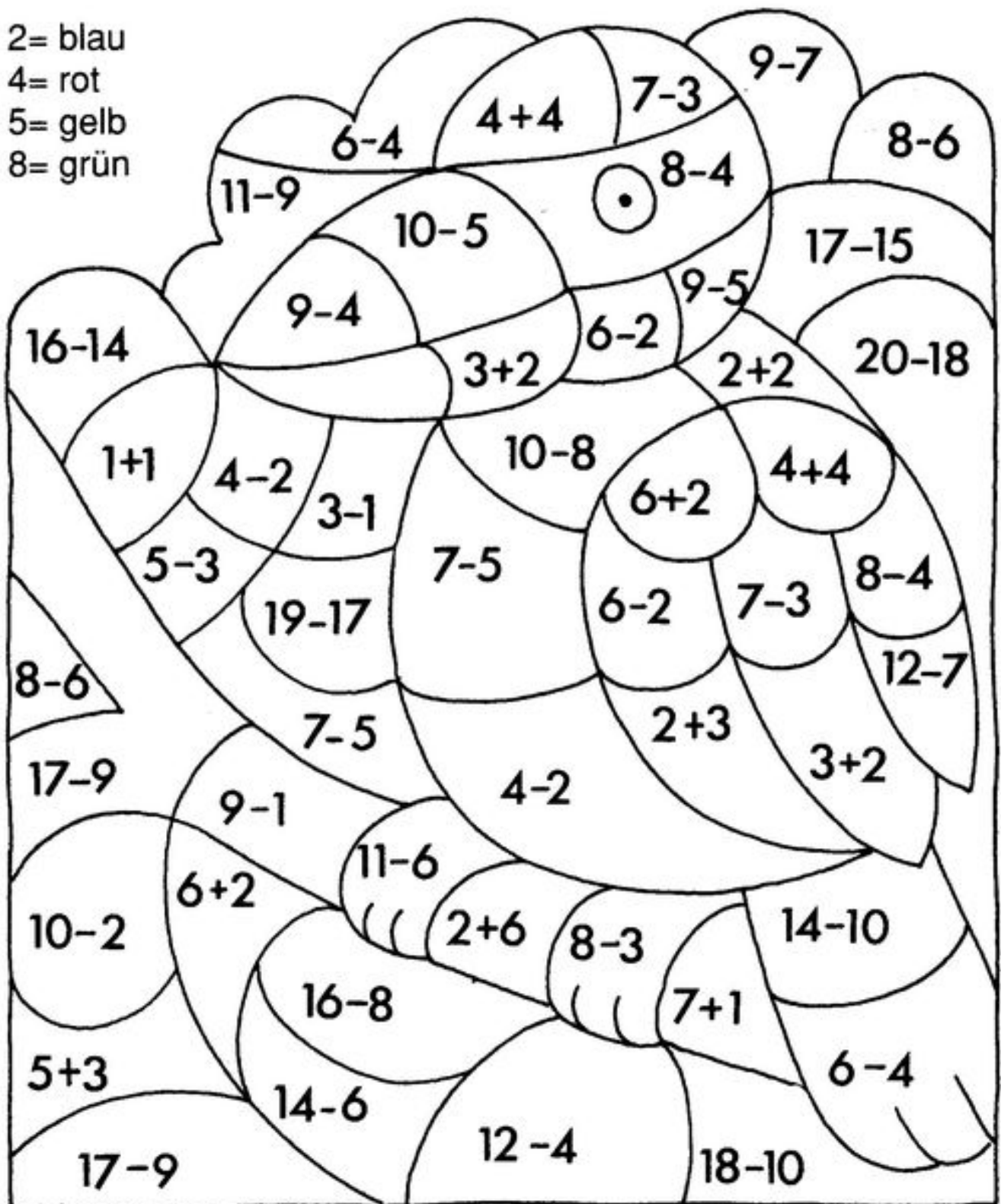
$4 \square 5 \square 8 = 12$

$20 \square 10 \square 5 = 5$

MALEN NACH ZAHLEN

Berechne das Ergebnis und male danach die Felder wie folgt aus:


- 2= blau
- 4= rot
- 5= gelb
- 8= grün




Uhrzeiten-Rätsel

Beantworte die Frage, indem du die Uhrzeit aufschreibst. Du kannst gerne auch die Zeiger in die Uhr malen.


Wann stehst du auf, wenn du zur Schule musst? _____ Uhr




Wann stehst du am Wochenende auf? _____ Uhr




Wann beginnt der Unterricht an der Schule? _____ Uhr




Wann beginnt die erste Pause in der Schule? _____ Uhr




Wann gibt es bei dir meistens Mittagessen? _____ Uhr



Wann gehst du ungefähr ins Bett zum Schlafen? _____ Uhr



Gehst du in einen Verein oder ähnliches? Wann? _____ Uhr



Buchstabensalat

Markiere die Länder im Buchstabensalat!

B G J B Y K P L R E J D K G I
Ö S T E R R E I C H G M L W U
F D M L N H V U C R Y D Y H E
V R U G I Y P O R T U G A L Q
D E U T S C H L A N D L I W U
F D P I E K B K N I N V A V Q
R Ä U X G S C H W E I Z S A E
A N Z F Z Q Ö F S D Y X V J F
N E Q D U Z H D P E B Ö S R N
K M M S H B L E A R E I P C E
R A M B J L S I N L L R O P F
E R L Z K B B E I A G Ö L J I
I K Ö A Z N N R E N I V E P B
C Z I T A L I E N D E X N E D
H T S C H E C H I E N J G N V

- 1 Österreich 2 _____ 3 _____
4 _____ 5 _____ 6 _____
7 _____ 8 _____ 9 _____
10 _____ 11 _____ 12 _____

Länderrätsel zum Ausmalen

Oben schwarz, Mitte rot, unten gold

Es ist _____.




Oben weiß, unten rot

Es ist _____.




Links blau, Mitte weiß, rechts rot

Es ist _____.




Oben rot, Mitte weiß, unten blau

Es ist _____.



Links grün, Mitte weiß, rechts rot

Es ist _____.




Oben und unten gelb, Mitte rot

Es ist _____.



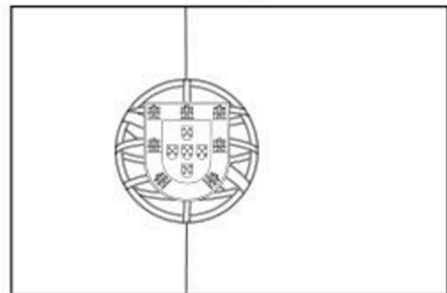
Links schwarz, Mitte gelb, rechts rot

Es ist _____.



Links rot, rechts grün, gelbe Mitte

Es ist _____.




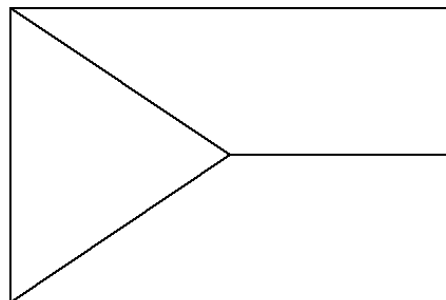
Oben und unten rot, Mitte weiß

Es ist _____.



Finde die Farben der Flagge selbst heraus. Schreibe das Land dazu.





Sudoku-Rallye Teil 2

Sammele möglichst viele Punkte, indem du alle Sudoku-Rätsel löst!

Rechne deine Punkte am Ende zusammen ☺

★ = 1 Punkt

Beachte die folgenden Regeln, um das Sudoku zu lösen:

1. Die Zahlen von 1- 9 dürfen in jeder Zeile (waagerecht) nur einmal vorkommen.
2. Die Zahlen von 1- 9 dürfen in jeder Spalte (senkrecht) nur einmal vorkommen.
3. Die Zahlen von 1- 9 dürfen in jedem Block nur einmal vorkommen.



7	1		2	8			9	3
	9	8	3	4	7	1	5	6
3	4	6	9	5		8	2	7
9	6	1	5	3	8		4	2
5	7		4	6			8	1
4	8	2	7	1	9	6	3	5
6	3	9			4	5	7	
1	2	7	8	9		3	6	4
8	5		6	7	3	2	1	9



5	8		2	1			3	
	3	4		5				
2		1	4	3	8			
		6		4		2		
	1			7	3		5	
4	5				2	3		
1							7	
8		5		2				
			6		5		1	2



	8	7		3	5	1		
	5	6		1	9		3	
1	9	3		4	2			
		2	4	8		5		
		8	1	5	7		2	3
	7		2	9		4		
5				6	8			4
				2			8	
8		4		7	1	3		



	6			5		8		
				4		2		
		5			8	4		1
							1	
7		3		6			2	
				8		3		9
		8			5			
3				2		7	5	
	7	4	9					



		3				2		
	9	8		1		4	6	
4	8			3		1		
9			2		1		3	
				6			2	
8							4	
	6		9	4				3
	3		5					2

Wie viele Punkte hast du gesammelt?

Ich habe _____ Punkte gesammelt

11-15 Punkte	= Sudoku-König
7-10 Punkte	= Experte
4-6 Punkte	= Profi
2-3 Punkte	= Fortgeschritten
1 Punkt	= Anfänger